

Задания к школьному этапу всероссийской олимпиады школьников по технологии  
7 класс (девочки) (65 баллов)  
2018-2019 учебный год

Теоретическая часть (максимальное кол-во баллов – 25 (за каждый правильный ответ 1 балл.)

Отметьте правильные варианты ответа.

† Задание №1. Способ консервирования при температуре ниже 100 С:

- а) стерилизация  б) пастеризация

† Задание №2. Название нити, проходящей от катушки к игольному ушку:

- а) нижняя б) зигзагообразная  в) верхняя

† Задание №3. Варить овощи для салатов и винегретов следует:

- а) очищенными;  б) неочищенными;  
в) нарезанными крупными кусками; г) нарезанными мелкими кусочками.

† Задание №4. Консервы из плодов, сваренные в густом сахарном сиропе:

- а) компот  б) цукаты в) варенье

† Задание №5. Капрон и лавсан являются:

- а) химическими волокнами б) растительными волокнами в) натуральными волокнами

† Задание №6. Моделирование - это

- а) построение чертежа выкройки изделия  
 б) процесс изменения чертежа выкройки в соответствии с моделью  
в) создание эскиза

† Задание №7. По какой мерке определяется размер плечевого изделия?

- а) Ст  б) Ст2 в) Сб г) Ди

† Задание №8. При выкраивании подкройной обтачки её долевую нить располагают:

- а) вдоль обтачки; б) поперёк обтачки;  
в) под углом 45°;  г) по направлению долевой нити основной детали;

† Задание №9. Деловой костюм относится к стилю:

- а) классическому б) спортивному в) романтическому г) «фантази»

† Задание №10. Кисломолочными продуктами являются:

- а) молоко  б) кефир  в) творог г) мороженое  д) сметана

† Задание №11. Доброкачественное мясо имеет:

- а) консистенцию плотную б) имеет мягкий жир в) имеет твердый жир г) не упругое

† Задание №12. Волокна растительного и животного происхождения относятся к

- а) искусственным б) синтетическим  в) натуральным

† Задание №13. К соединительным швам относятся:

- а) стачной  б) настрочной в) вподгибку с закрытым срезом  г) двойной

† Задание №14. К швейным изделиям плечевой группы относятся:

- а) юбка  б) сарафан  в) жакет  г) туника

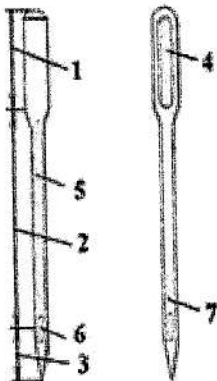
† Задание №15. Для построения чертежа ночной сорочки с цельнокроеным рукавом необходимо снять мерки:

- а) Ди б) Ст в) Сб  г) Ст2  д) Сш  е) Оп

† Задание №16. Запошивочным швом обрабатывают:

- а) горловину ночной сорочки  б) плечевой срез в) низ изделия г) низ рукава  д) боковой срез

† Задание №17 Назовите конструктивные элементы машинной иглы, отмеченные цифрами на рисунке:



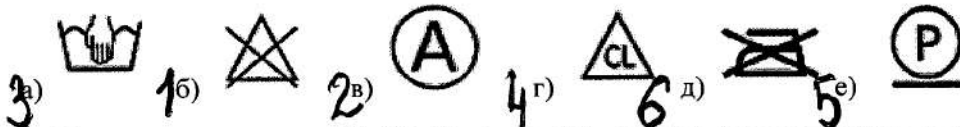
1. Корпус
2. Штанга
3. Острие
4. Лыска
5. Дн. желобок
6. Ушко
7. Кор. желобок

Задание №18. Установите соответствие между операциями изготовления ночной сорочки и терминами:

- а) обработать горловину обтачкой ~~1. стачать~~  
 б) обработать низ рукава ~~2. застрочить~~  
 в) обработать боковые срезы ~~3. обтачать~~

Задание №19. Установите соответствие между символами и их значениями:

- 1) отбеливать нельзя 2) химическая чистка 3) стирка вручную  
 4) можно отбеливать 5) специальная чистка, щадящий режим 6) утюжка запрещена



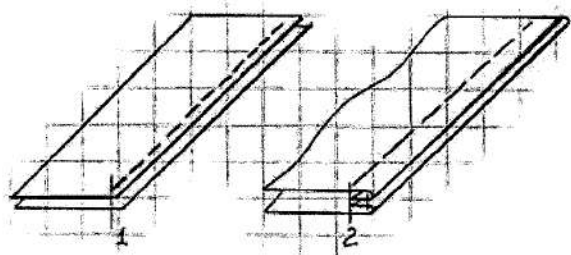
Творческое задание № 20 Нарисовать модель платья. Дать описание этой модели. ( 6 баллов)

**Практическая работа (40 баллов)**

**Задание №1 Выполнить двойной шов (20 баллов)**

Двойной шов применяется в основном при изготовлении постельного белья, стачивании подкладки карманов. Вам потребуется два лоскуса ткани размером 15x10 см.

Самоконтроль: машинные строчки – ровные, аккуратные;



- ширина швов соответствует заданным величинам;
- наличие машинных закрепок;
- качество ВТО; соблюдение правил т/б

**Последовательность выполнения работы**

Детали складываем изнаночной стороной внутрь и, уравнив срезы, стачиваем вдоль длинной стороны (Рис. 1) по лицевой стороне на расстоянии 0,3 - 0,4 см от края

Срезы разутюживаем

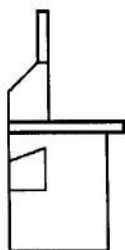
Перегибаем детали лицевыми сторонами внутрь и прокладываем вторую строчку, отступая от края на 0,5-0,7 см. Припуски ткани на шов закрыты строчкой (Рис. 2)

Шов приутюживаем

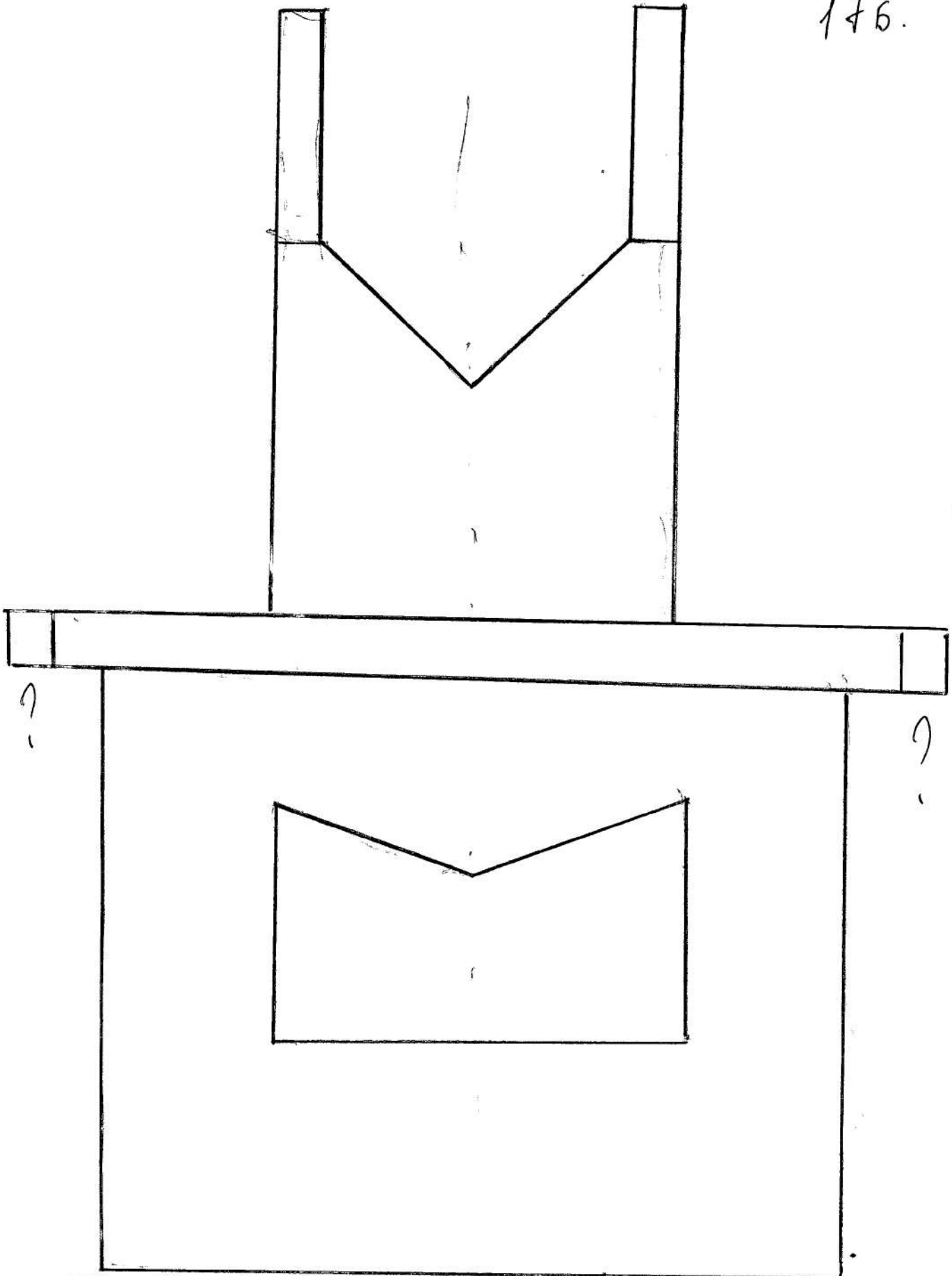
**Контроль качества выполнения практической работы**

Детали края соответствует заданным размерам	4
Машинная строчка проложена параллельно срезу	4
Вторая машинная строчка проложена строго на расстоянии 0,5-0,7 см от края, параллельно первой машинной строчке	4
Качество строчки (равномерность натяжения верхней и нижней нитей)	2
Наличие закрепок	2
Влажно-тепловая обработка выполнена качественно	2
Соблюдение безопасных приемов труда	2
<b>Всего:</b>	<b>20</b>

Задание №2 Нарисуйте эскиз модели фартука в соответствии с чертежом (20 баллов)



176.



Президенти: Кувшинова Татьяна Тихоновна  
Члены жюри: Обрепенко Е.В. Оу  
Котельникова А.И. Я